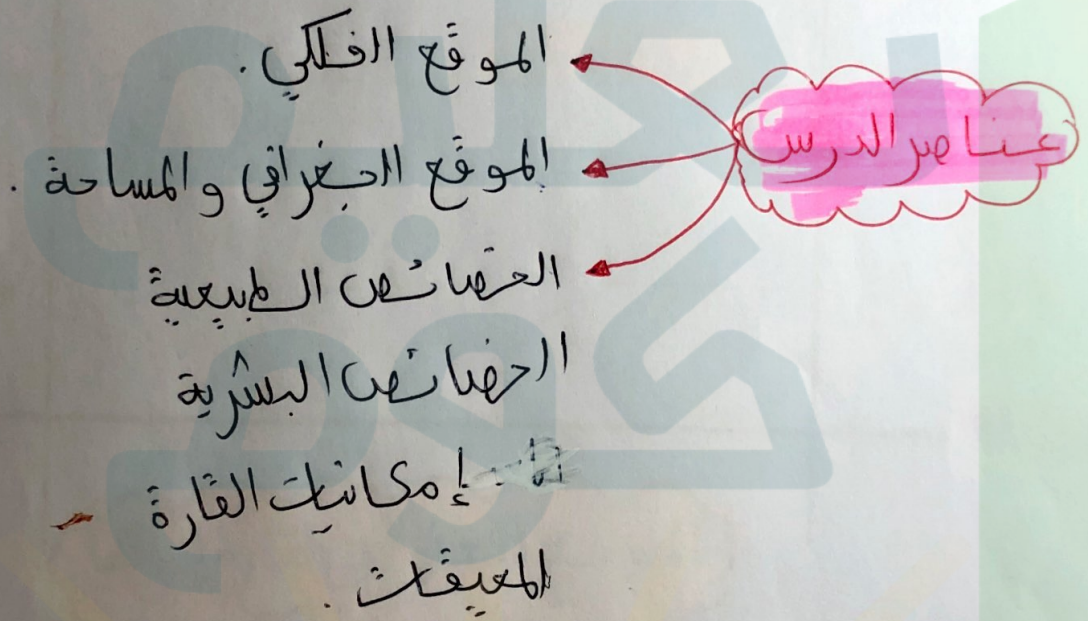


السنة الثالثة متوسط

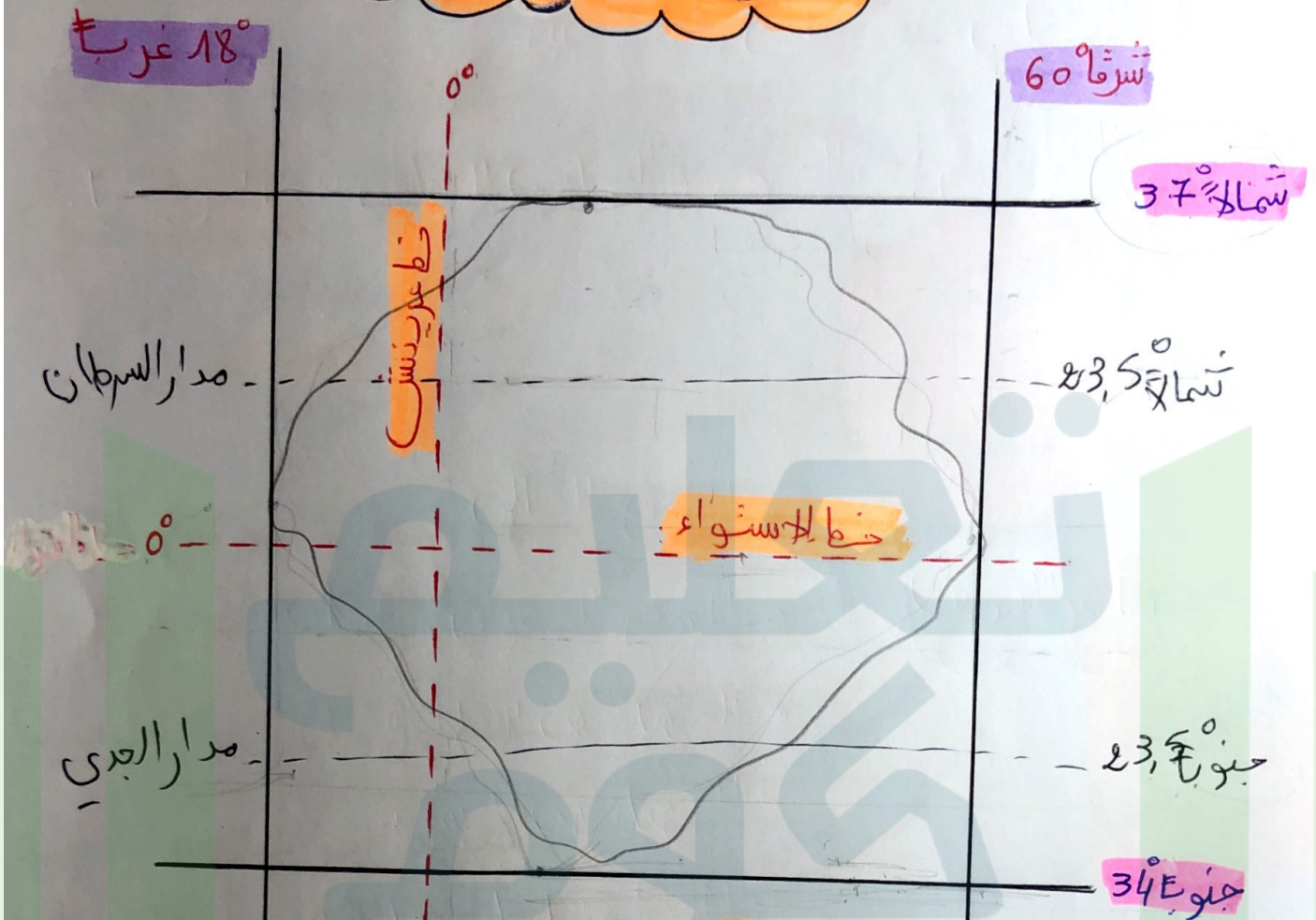
المقطع الثاني: السكان والتنمية

الوطنيّة التعلّمية رقم 01: التنوع والثباين الجغرافيين في إفريقيا.

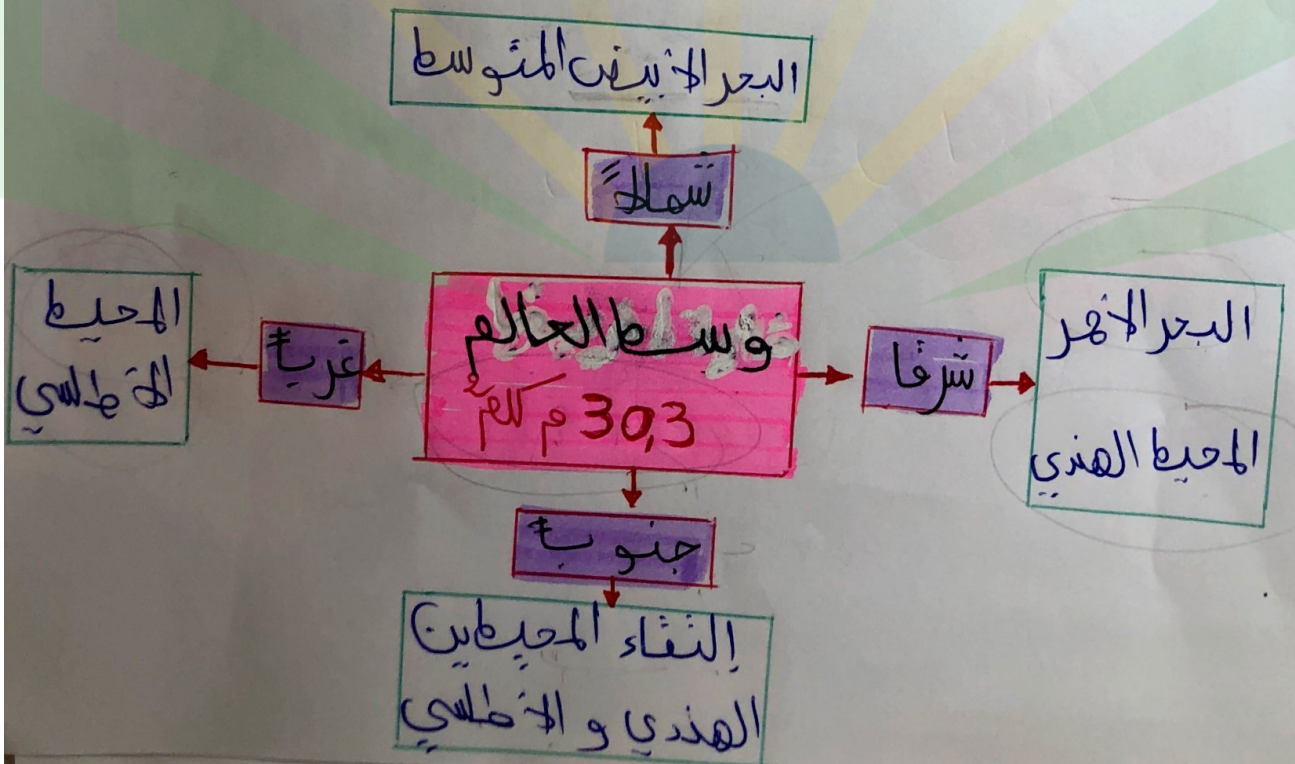


الثباين = الاختلاف

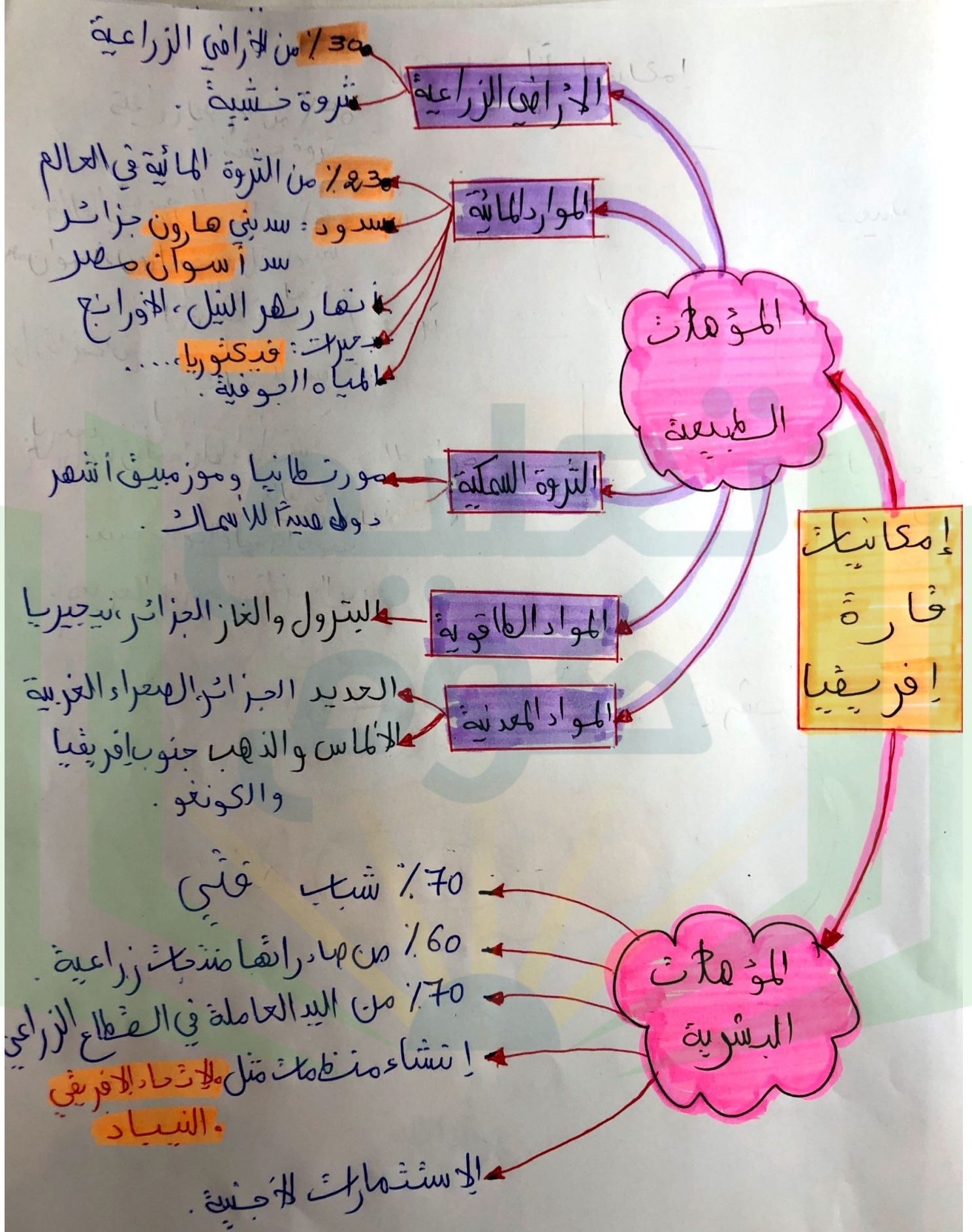
الموقع الفلكي لقارة أفريقيا

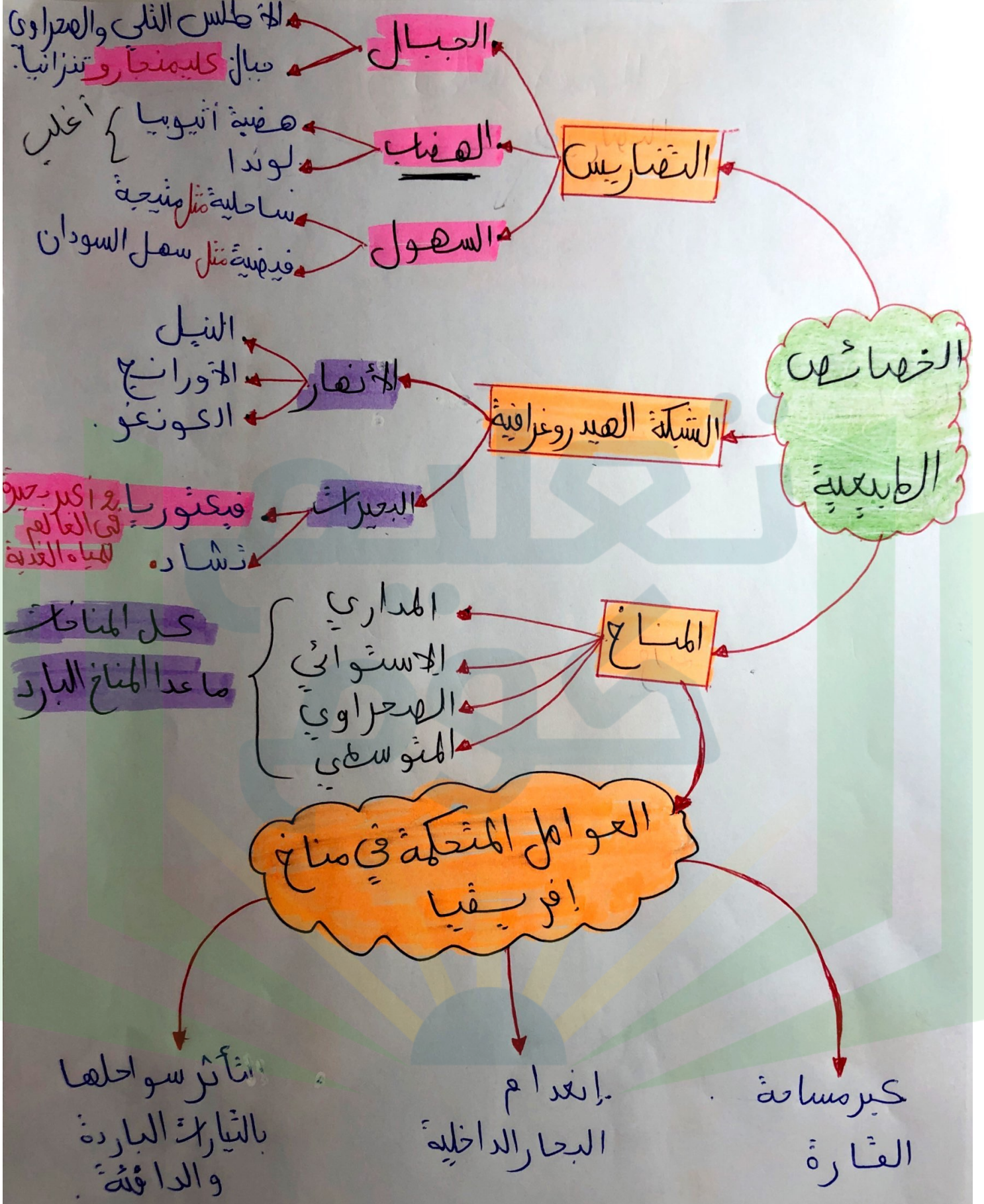


الموقع الجغرافي لقارة أفريقيا



من إعداد : الأستاذة بشير نوال





الإتحاد الإفريقي

الاهداف

- 1- نشر الديمقراطية
- 2- تنمية القارة
- 3- سياسيا واجتماعيا
- 4- نشر السلم والأمن
- 5- ضمان الحقوق

عدد الدول

53 دولة

التأسيس

2001

بدأ العمل في:

2003

التنمية

المبارى

- 1- تخفيف الفقر
- 2- سد فجوة في مجال التعليم
- 3- وقف هجرة العقول
- 4- الرعاية الصحية

الدول المؤسسة

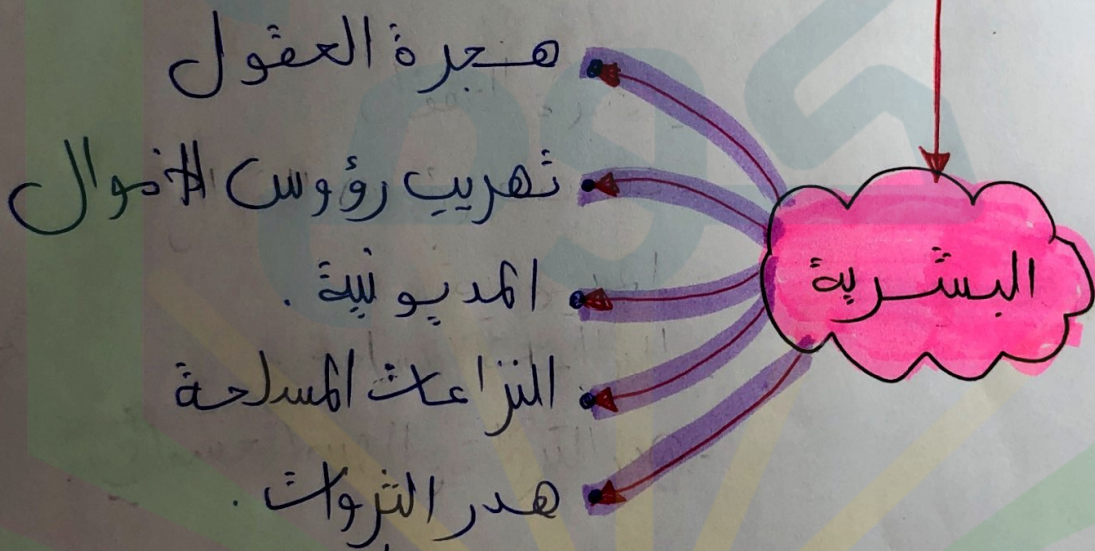
- 1- الجزائر
- 2- السنغال
- 3- نيجيريا
- 4- جنوب إفريقيا
- 5- مهور

التأسيس

2001



معيقتك التنمية في
قارة إفريقيا



الاستغلال العنقلاي

1- اشرح ما يلي

الشبكة الهيدروغرافية - النيباد - المحيطات .

2- أكمل الجدول التالي الذي يمثل إمكانيات قارة إفريقيا:

الإمكانيات الطبيعية	الإمكانيات البشرية
-	-
-	-
-	-

3- ماهي العوامل المنحكمة في مناخ قارة إفريقيا؟

4- فسر الجملة التالية:

يقال عنقارة إفريقيا هبة مدخرية تتوسط العالم.

من إعداد : الأستاذة بشير نوال

الو فندعية لإدماجية.

شاهدت تخطيط حول قارة إفريقيا فقال المعلق بأنها هبة
كبيرة وسط العالم ويواجه سكانها العديد من المشاكل. فطلب
منك أخوك أن تشرح له أكثر.

السنة 1 نعد بحيرة فيكتوريا ثاني أكبر بحيرة للمياه العذبة في
العالم.

التعليق: من خلال ما درست سابقاً والسنة أكتب فقرة من 8 أسطر
تحدث فيها عن التهديد الطبيعية لقارة إفريقيا منسيرا إلى
المشاكل التي تعاني منها.

المنهجية (مقدمة) أعرف
عائته

السنة