

الحل من إعداد : تعليم كوم


تقويم تشخيصي

المستوى : الأولى متوسط

الإستاد د زهير

التمرين الأول :

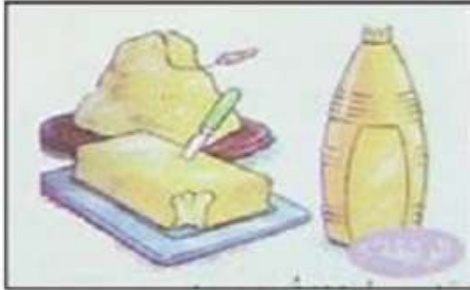
تصنف الأغذية ضمن ست مجموعات ولمعرفتها نقترح عليك الوثائق التالية :



.....

.....

.....



.....

.....

.....

1/ اكتب اسم كل مجموعة غذائية مكان النقاط التي تحت كل صورة.

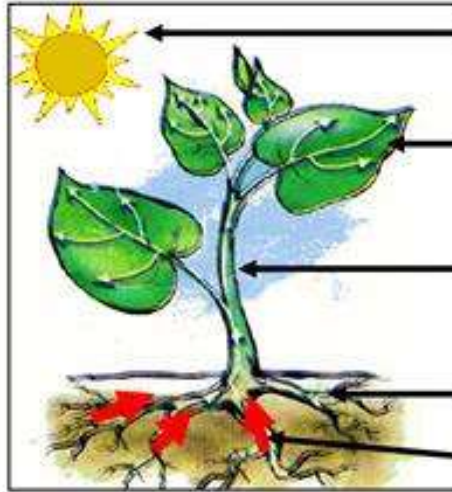
2/ ان اي خلل في تناول هذه الاطعمة ينجم عنه امراض .

* اكمل الجدول برط كل مرض بمسبباته وذلك بوضع علامة (+) في كل خانة تناسبها.

عدم تناول الحليب و مشتقاته	الاعتماد على نوع واحد من الغذاء كالحبوب	عدم تناول الخضار الطازجة كالجزر	الافراط في تناول العجائن و المواد السكرية	مسبباتها الامراض
				ضعف الرؤية ليلا
				البدانة
				الكساح
				الهزال

التمرين الثاني :

النباتات الخضراء مثل الانسان تحتاج الى ماء وغذاء لكي تنمو وتتطور ولكي نعرف المزيد نضع بين ايديك الوثيقتين



نبته خضراء

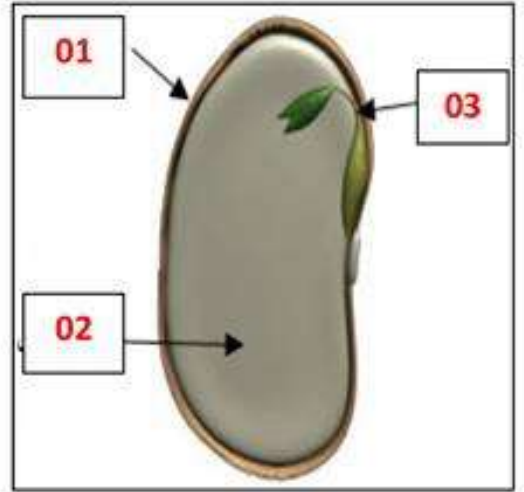
.....

.....

.....

.....

.....



بذرة

1/ اكتب البيانات التالية الخاصة بالنبته الخضراء في خانتها المناسبة :

جذر - اوراق - امتصاص الماء والاملاح من التربة - ضوء الشمس - ساق.

2/ ضع في الجدول مكونات البذرة :

رقم البيان	التسمية
01	
02	
03	

3/ اكمل النص العلمي التالي بوضع كل مصطلح في مكانه الصحيح

يتغذي في البذرة من الفلقتين ، حتى ينمو ويصبح حيث تتشكل ، الساق ، و الجذور .
عندما يصبح الرشيم نباتا كاملا يتحصل على غذائه من التي يمتص منها بفضل
..... كما يحتاج في غذائه الى

* المصطلحات التي يجب توظيفها بدون ترتيب :

ضوء الشمس ، الاوراق ، الرشيم ، التربة ، نبتة كاملة ، الماء والاملاح المعدنية ، جذوره.

الاستاذ د زهير

الحل من إعداد : تعليم كوم




تقويم تشخيصي

المستوى : الأولى متوسط

الإستاذ ذ زهير

التمرين الأول :

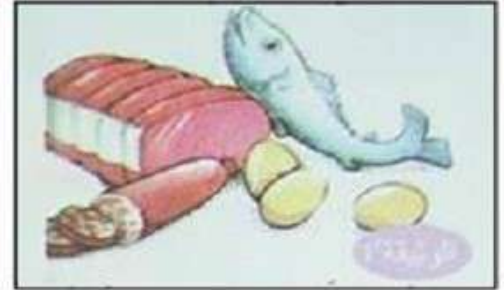
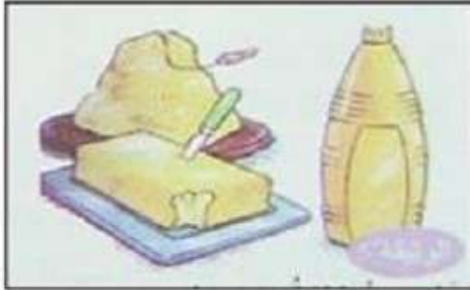
تصنف الأغذية ضمن ست مجموعات ولمعرفتها نقترح عليك الوثائق التالية :



.....حليب و مشتقاته.....

.....خضروات و فواكه.....

.....مشروبات.....



.....دهون.....

.....الحبوب.....

.....لحوم.....

1/ اكتب اسم كل مجموعة غذائية مكان النقاط التي تحت كل صورة.

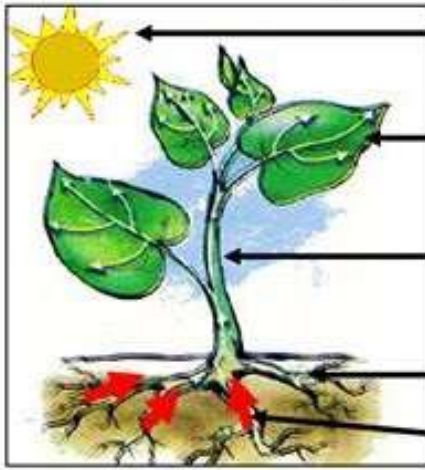
2/ ان اي خلل في تناول هذه الاطعمة ينجم عنه امراض .

* اكمل الجدول برط كل مرض بمسبباته وذلك بوضع علامة (+) في كل خانة تناسبها.

عدم تناول الحليب و مشتقاته	الاعتماد على نوع واحد من الغذاء كالحبوب	عدم تناول الخضروات الطازجة كالجوز	الافراط في تناول العجائن و المواد السكرية	مسبباتها
		+		ضعف الرؤية ليلا
			+	البدانة
+				الكساح
	+			الهزال

التمرين الثاني :

النباتات الخضراء مثل الانسان تحتاج الى ماء وغذاء لكي تنمو وتتطور ولكي نعرف المزيد نضع بين ايديك الوثيقتين



نبتة خضراء

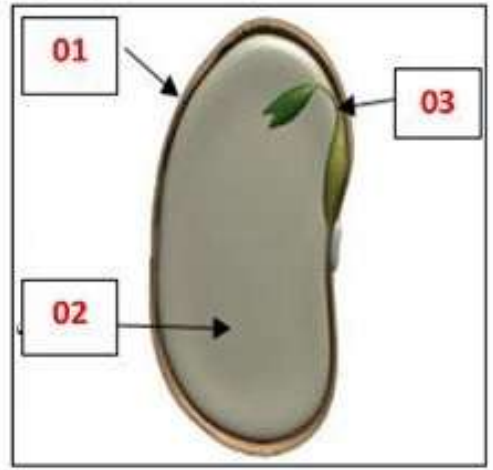
..... ضوء الشمس

..... اوراق

..... ساق

..... جذور

امتصاص الماء والاملاح من التربة



بذرة

1/ اكتب البيانات التالية الخاصة بالنبتة الخضراء في خانتها المناسبة :

جذر - اوراق - امتصاص الماء والاملاح من التربة - ضوء الشمس - ساق.

2/ ضع في الجدول مكونات البذرة :

رقم البيان	التسمية
01	غلاف البذرة
02	الغذاء المخزن في الفلقة
03	النبية /الرشيم

3/ اكمل النص العلمي التالي بوضع كل مصطلح في مكانه الصحيح

يتغذي **الرشيم** ... في البذرة من الفلقتين ، حتى ينمو ويصبح **... نبتة كاملة ...** حيث تتشكل **الأوراق** ، الساق ، و الجذور .
عندما يصبح الرشيم نباتا كاملا يتحصل على غذائه من **..التربة..** التي يمتص منها **الماء.و.الأملاح.المعدنية** .بفضل **جذوره** ... كما يحتاج في غذائه الى **...ضوء.الشمس...** .

* المصطلحات التي يجب توظيفها بدون ترتيب :

ضوء الشمس ، الاوراق ، الرشيم ، التربة ، نبتة كاملة ، الماء والاملاح المعدنية ، جذوره.



الاستاذ د زهير

الحل من إعداد : تعليم كوم

